


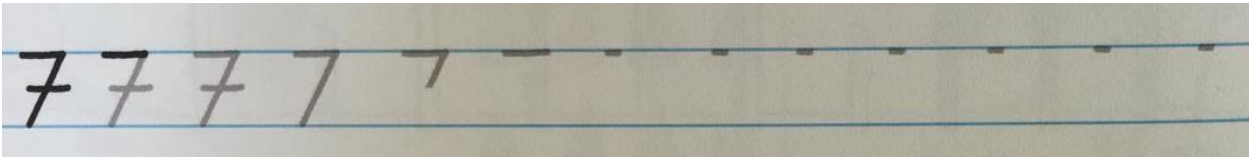


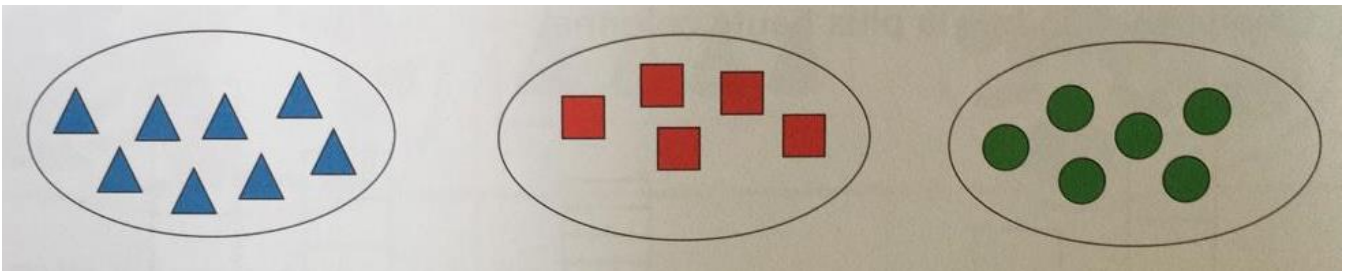
Lundi 11 mai

Le nombre 7

1-Continue:



2-Barre ou complète pour avoir 7 figures dans chaque collection.



3-Combien y a-t-il de voitures dans chaque collection ? **Représente** les voitures par un rond dans la boîte et écris le nombre.

The image shows two rows of cars. The top row contains 7 red cars of various models. To the right of these cars is a 2x4 grid of boxes and a small square box to its right. The bottom row contains 6 blue cars of various models. To the right of these cars is a 2x4 grid of boxes and a small square box to its right.

4-**Compte** les jours de la semaine

Lundi **mardi** **mercredi** **jeudi** **vendredi** **samedi** **dimanche**

Ecris le nombre des jours de la semaine.